

# LA DIVERSITE DE L'AFRIQUE

L'Afrique est le continent le plus faible du monde alors qu'il a d'importantes ressources.  
Comment expliquer cette situation ?

## I/ Comment se répartit la population africaine ?

### 1. La diversité du peuplement

Afrique : trente millions de km<sup>2</sup> et 861 millions d'habitants

#### Doc 4 page 169 : La répartition de la population en Afrique

##### - Où se concentre la population africaine ?

La population africaine se concentre au bord du Nil, aux alentours d'Ibadan, au Kinshasa, au Golfe de Guinée et aux hauts plateaux d'Afrique de l'Est.

##### - Où se situent les zones vides d'habitants ?

Les zones vides d'habitants se situent au Sud-Ouest de l'Afrique, en Somalie et en République Centrafricaine.

L'Afrique est un continent **faiblement peuplé**, sa population est mal répartie et les **faibles densités** dominant. Le littoral du Maghreb, la vallée du Nil, la région des Grands Lacs et le Golfe de Guinée regroupent le tiers de la population africaine.

### 2. Le rôle du Milieu naturel

L'essentiel de l'Afrique appartient à la **zone chaude**. Le désert du Sahara, le Sahel et la forêt dense équatoriale sont des milieux difficiles pour l'homme et donc des **zones peu peuplés**. Au contraire, les régions méditerranéennes et les vallées pluviales sont plus favorables à **l'installation humaine**.

### 3. Le poids de l'histoire

#### Doc page 168 :

##### Question 2 page 169 : Combien d'esclaves ont été prélevés en Afrique entre 800 et 1900 ?

Entre 800 et 1900, 23 millions d'esclaves ont été prélevés en Afrique.

##### Question 3 page 169 : Quels pays possédaient le plus de colonies en Afrique en 1900 ? Combien y avait-ils de pays indépendants ?

En 1900, les deux pays possédant le plus de colonies sont la France et les Anglais. Il y avait 2 pays indépendants : Le Libéria et l'Ethiopie.

Le **commerce des esclaves** explique les **faibles densités humaines** de certaines régions. La plupart des grandes villes sont situés sur le **littoral** car elles ont été créés par des **colonisateurs européens**. Beaucoup d'états africains ne sont devenus **indépendants** qu'après les années 1960.

## II/ Comment évolue la croissance démographique et la croissance urbaine ?

### 1. Une très forte croissance

#### Doc 2 et 5 pages 172-173 : La population africaine

##### Question 1 page 173 : Compare la population de l'Europe à celle de l'Afrique en 1975 et en 2000.

La population européenne a augmenté mais faiblement tandis que la population africaine a grandement augmenté.

L'Afrique est le pays qui connaît la plus forte **croissance démographique** au monde. Sa population a **doublé** en 30 ans. Cette croissance s'explique par un **taux de natalité** très élevé alors que la mortalité diminue grâce aux **progrès de la médecine**.

## 2. Une population qui s'urbanise

**Question 3 page 173 :** Quelle part la population urbaine représente-t-elle dans la population totale en 1950 ? En 2000 ? Que représenteras-t-elle en 2025 ?

En 1950, 10% de la population est urbaine, en 2000 33% de la population est urbaine et en 2025, on estime que 50% de la population sera urbaine.

**Question 1 page 175 :** Quelles sont les régions les plus urbanisées d'Afrique ? Depuis quelle date les grandes villes « explosent »-t-elles ?

Les régions les plus urbanisées d'Afrique sont le Maghreb, l'Afrique du Sud et le Golfe de Guinée. Les grandes villes « explosent » depuis 1960.

**Docs 2 et 5 page 175 :** Les bidonvilles de Nairobi

**Quels problèmes l'urbanisation rapide de l'Afrique pose-t-elle ?**

L'urbanisation rapide de l'Afrique pose des problèmes comme les maladies, la pauvreté, les bidonvilles et la pollution.

La population africaine devient de plus en plus **urbaine**. Cela provoque un accroissement de la taille des villes. L'Afrique a aujourd'hui plus de 30 villes d' 1 000 000 d'habitants et **deux mégapoles** de plus de 30 000 000 d'habitants (**Le Caire et Lagos**).

L'urbanisation s'est faite trop vite et beaucoup de gens ne trouvent des logements que dans des **bidonvilles**, à la périphérie des villes. Ces quartiers sont insalubres et les maladies s'y développent vite. De plus, les nombreuses voitures créent des **embouteillages** et de la **pollution** tandis que les riches s'enferment dans des quartiers et des maisons sécurisées.

## III/ Un continent entre difficultés et développement

### 1. Les fléaux de l'Afrique : guerres et pauvreté

**Questions sur le document :**

- 1) La pauvreté touche beaucoup d'Africains car 35% à 70% de la population touchent moins de 2€ par jour.
- 2) Le continent le plus touché par le sida est l'Afrique subsaharienne. Les Africains représentent entre 64% et 65% des malades dans le sida.
- 3) Les zones de conflits ou de famines sont situées généralement au même endroit comme l'Éthiopie.
- 4) Un enfant soldat est un enfant qui fait la guerre sans être payé. Il tue et emporte tout ce qui est bon à prendre. Pour satisfaire leurs besoins, ces enfants vendent à prix cadeau tout ce qu'ils ont pris et gardé.

Les guerres sont surtout dues à des tensions entre **groupes rivaux** qui se battent pour le contrôle ces ressources naturelles. Beaucoup d'enfants sont enrôlés comme **soldats**. Cette violence entraîne une **espérance de vie très faible** et une **grande pauvreté**. La population est souvent démunie contre les épidémies qui se multiplient d'autant plus que des situations de **famines** éclatent souvent.

### 2. Un niveau de développement encore faible

**Doc 2 et 3 page 184 :** L'Afrique : ses fonctions et ses échanges

**Question 1 page 185 :** Pourquoi les pays d'Afrique ont du mal à se développer depuis 30 ans ?

Les pays d'Afrique ont du mal à se développer car ils ont perdu des parts de marchés dans le commerce mondial et dans le commerce des matières premières et des produits de bases.

**Question 3 page 185 :** D'où partent et où aboutissent la plupart des voies ferrées en Afrique ?

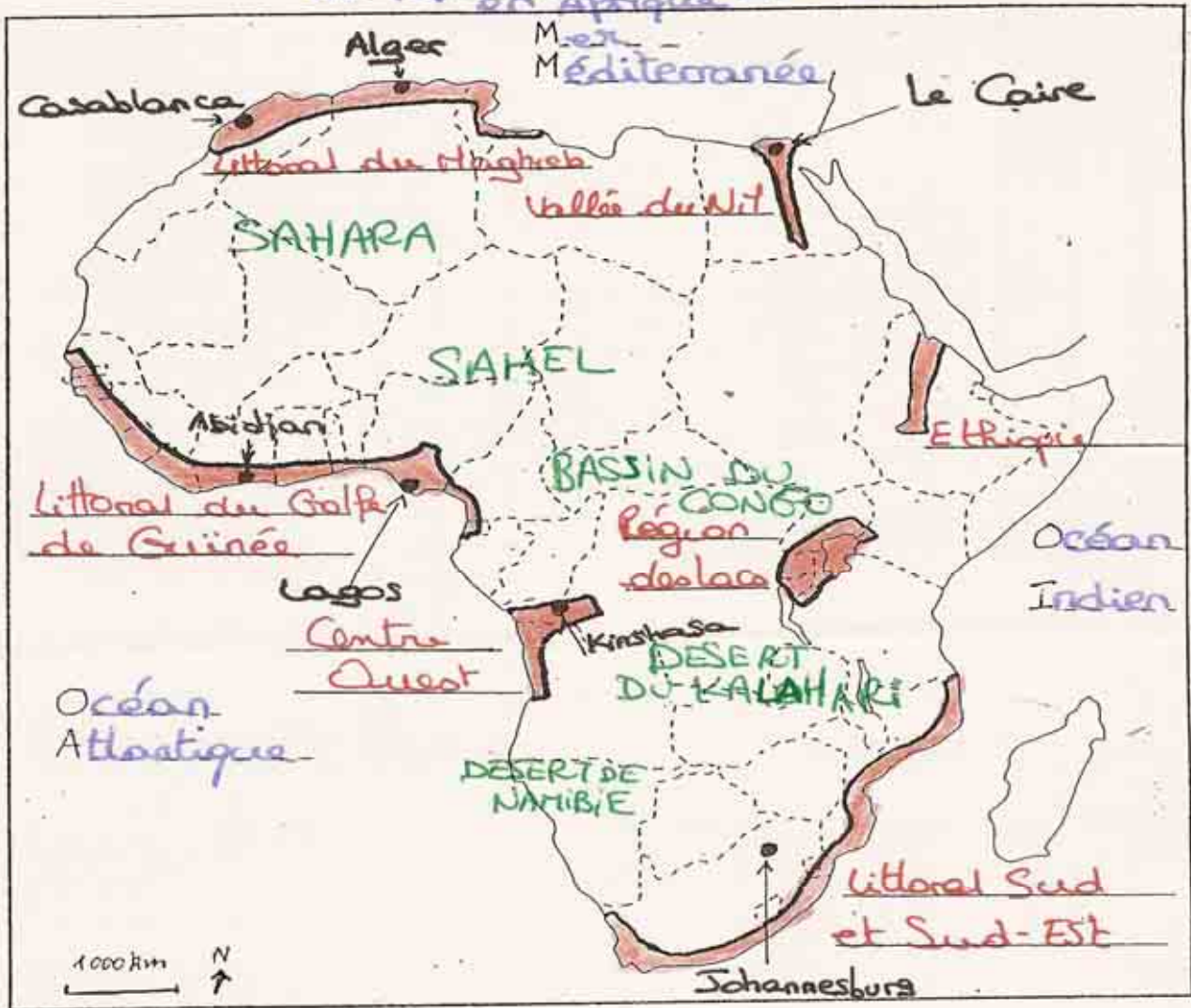
Les voies ferrées partent du centre de l'Afrique et aboutissent sur les côtes.

Les richesses de l'Afrique sont **nombreuses** mais elles sont souvent **exploitées** par des compagnies étrangères qui les expédient dans leurs pays d'origine. Les pays africains ne peuvent donc pas bénéficier des richesses **tirées de leur sol**.

### 3. Le nord et le sud s'en sortent mieux

Le **nord** et le **sud** de l'Afrique réussissent mieux que d'autres régions. **L'espérance de vie** est plus forte ; les gens **plus riches** qu'ailleurs sur le continent car l'industrie et les services y sont plus développés. Mais le niveau de vie est encore **faible** par rapport à l'Europe.

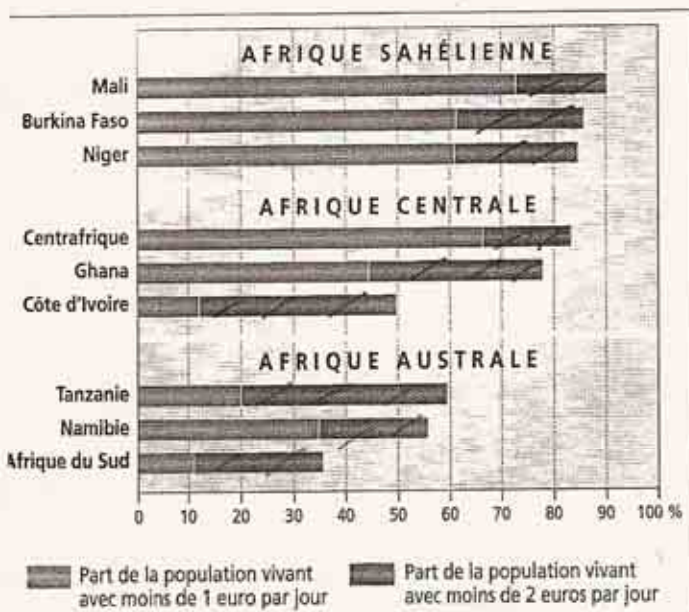
# La répartition de la population en Afrique



Région la plus peuplée

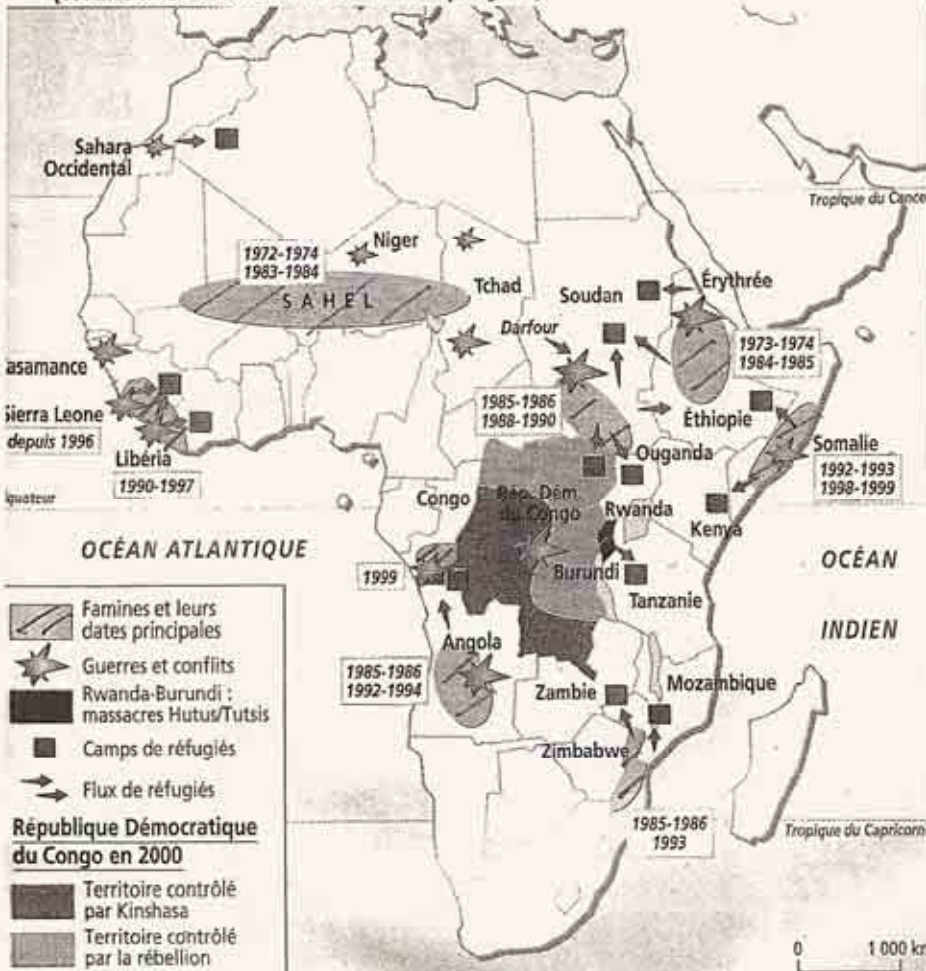
villes de plus de 3 millions d'habitants

SAHEL Région la moins peuplée



Source : Rapport sur le développement humain 2002, Programme des Nations Unies pour le Développement (PNUD), New-York.

### 1) Population en dessous du seuil de pauvreté (vivant avec moins de 1 ou 2 euros par jour).



### 3) Famines, guerres et réfugiés en Afrique depuis 1970.

- A l'aide du doc.1 montrez que la pauvreté touche beaucoup d'Africains.
- Observez le doc.2: Quel continent est le plus touché par le sida? Quelle proportion représentent les Africains sur le nombre de malades dans le monde?
- D'après le doc. 3, quel lien peut-on établir entre les zones de conflits et les famines? Donnez un exemple.
- Qu'est-ce qu'un enfant soldat? Pourquoi ces enfants se battent-ils?

### Estimation du nombre de malades du sida et séropositifs dans le monde : entre 35,9 et 44,3 millions

<b>Afrique subsaharienne</b>	entre 23,4 et 28,4 millions	<b>Amérique du Nord</b>	entre 540 000 et 1,6 million
<b>Asie-Pacifique</b>	entre 4,4 et 10,6 millions	<b>Europe occidentale</b>	entre 480 000 et 760 000
<b>Amérique latine et Caraïbes</b>	entre 1,3 et 2,2 millions	<b>Afrique du Nord Proche-Orient Pays du golfe</b>	entre 230 000 et 1,5 million
<b>Europe orientale et Asie centrale</b>	entre 920 000 et 2,1 millions	<b>Océanie</b>	entre 28 000 et 48 000

Source : Onusida, 2004.

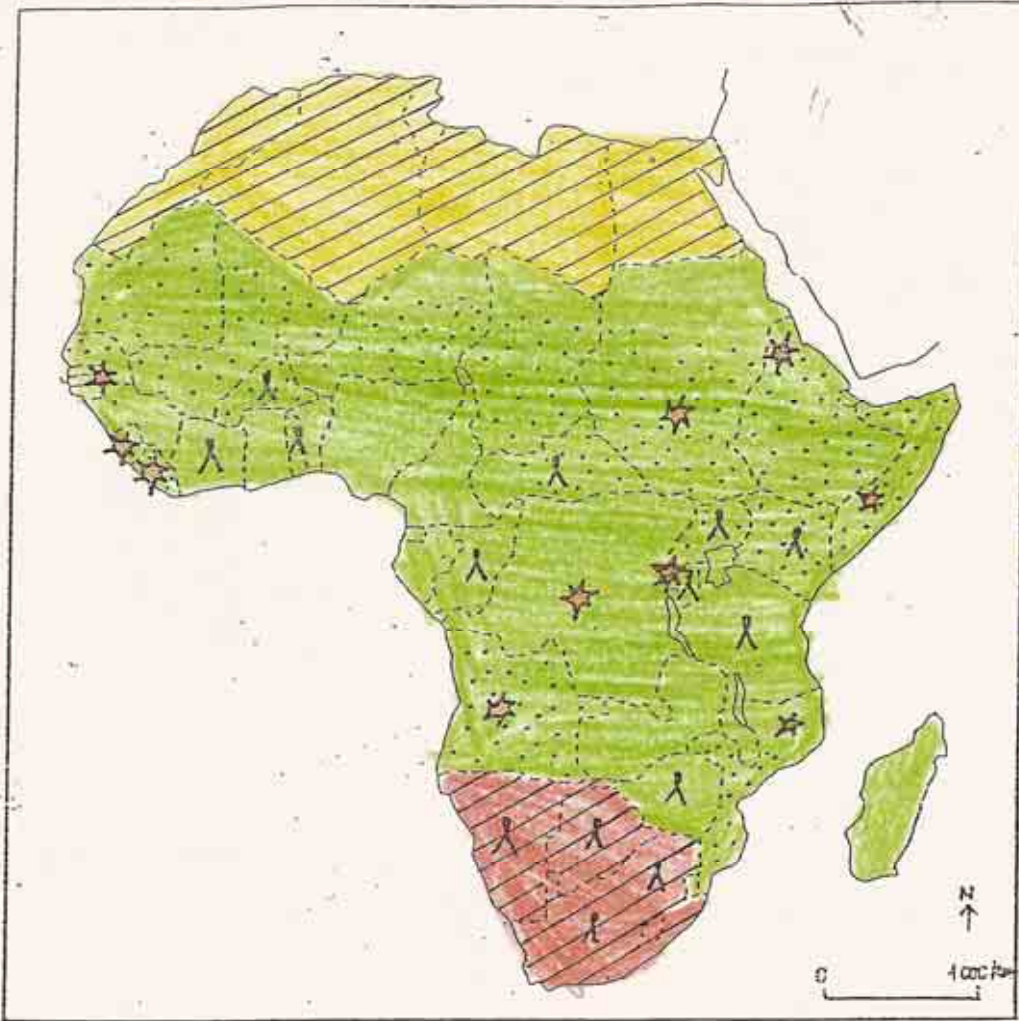
### 2) Le sida dans le monde (en 2004).

« Quand on dit qu'il y a une guerre tribale dans un pays, cela signifie que des bandits de grand chemin se sont partagé le pays. Ils se sont partagé la richesse; ils se sont partagé le territoire; ils se sont partagé les hommes. Ils se sont partagé tout et le monde entier les laisse faire. [...] Dans toutes les guerres tribales et au Liberia, les enfants-soldats, les *small-soldiers* ou *children-soldiers* ne sont pas payés. Ils tuent les habitants et emportent tout ce qui est bon à prendre. [...] Les enfants-soldats, pour se nourrir et satisfaire leurs besoins naturels, vendent au prix cadeau tout ce qu'ils ont pris et ont gardé. C'est pourquoi on trouve tout à des prix cadeaux au Liberia. De l'or au prix cadeau, du diamant au prix cadeau, des télévisions au prix cadeau, des 4 x 4, des pistolets et des kalachnikov. »

A. Kourouma, *Allah n'est pas obligé*, Le seuil, 2000.

### 4) Les enfants-soldats au Liberia.



**DES AFRIQUES AU DEVELOPPEMENT DIFFERENT**






IDH: Indice de Développement humain  
 ---  
 Indicateur de développement humain calculé à partir de la richesse produite par habitant, de l'espérance de vie et du taux d'alphabétisation.

**I- DES ELEMENTS DE DIFFERENCIATION**

**A- Un développement inégal :**



-  I.D.H. moyen
-  I.D.H. faible ou très faible

**B- Les plaies de l'Afrique :**

-  Zones touchées par la famine
-  Régions touchées par le sida
-  Conflits

**II- DEUX AFRIQUES**

**A- L'Afrique en développement :**

-  Afrique du nord : développement au contact de l'Europe, fondé sur les hydrocarbures et le tourisme.
-  Le sud de l'Afrique : principale puissance économique du continent.

**B- L'Afrique en difficulté :**

-  Afrique intertropicale