

Qu'est ce qu'un château fort ? Comment étaient-ils défendus ? L'exemple du château de Coudray-Salbart

Introduction : Au X^{ème} siècle, les 1^{ers} châteaux forts étaient construits en bois. Au fur et à mesure des guerres, les techniques de construction se perfectionnent, pour aboutir, au XIII^{ème} siècle, à de véritables forteresses en pierre, ou bien des villes entières fortifiées (Carcassonne). Les châteaux forts ont toujours deux rôles : ils contrôlent une région importante (route, fleuve, frontière, vallée), et ils servent de refuges pour les paysans en cas de danger. **Comment les châteaux forts étaient-ils construits pour remplir ces fonctions ?**

1. La situation du château de Coudray-Salbart en 1240 :



Le château de Coudray-Salbart appartenait à la famille des seigneurs de Parthenay (à 20km au nord-est de Coudray). Ces seigneurs étaient les vassaux du comte du Poitou, lui-même vassal des rois de France et d'Angleterre.

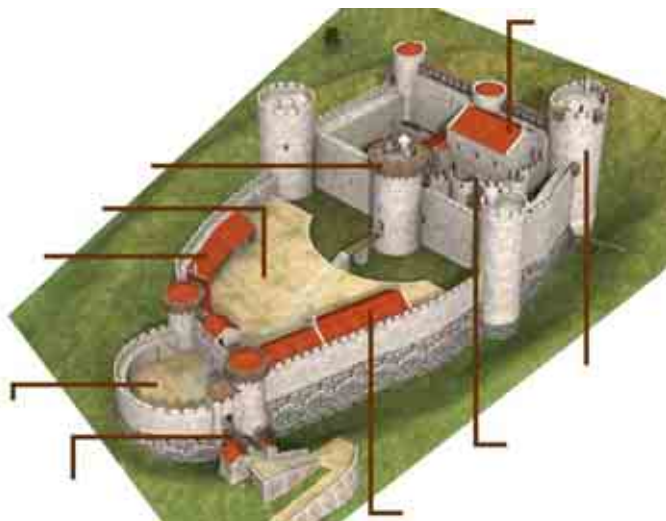
Les Parthenays possédaient un territoire (seigneurie) d'environ 1000 km², peuplée au maximum par 30 000 habitants. Le château de Coudray-Salbart fut construit en 1240 pour contrôler une rivière et une route de passage entre Niort (la grande ville au sud) et la ville de Parthenay.

Voici son état aujourd'hui (à droite) :



2. Le système défensif du château fort :

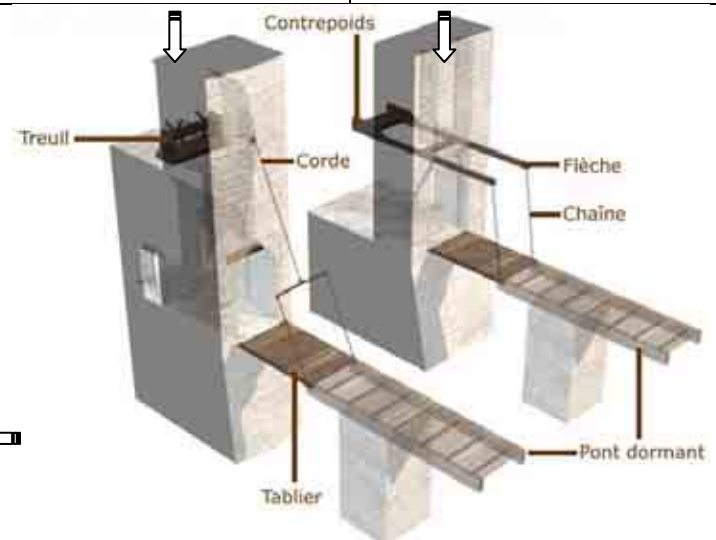
3. Vue du château en 3 dimensions, à compléter au fur et à mesure de la visite :



Commençons le point plus faible du château : l'entrée (c'est pourquoi il n'y en avait qu'une ...)

Une fois arrivé à la porte, il faut franchir un
..... (0,5 points). En voici deux, ci-dessous :

Celui inventé au XI ^{ème} siècle	Celui inventé au XIII ^{ème} siècle
-------------------------------------------	---------------------------------------------



Expliquez comment faire pour relever chacun d'eux (2 points) :

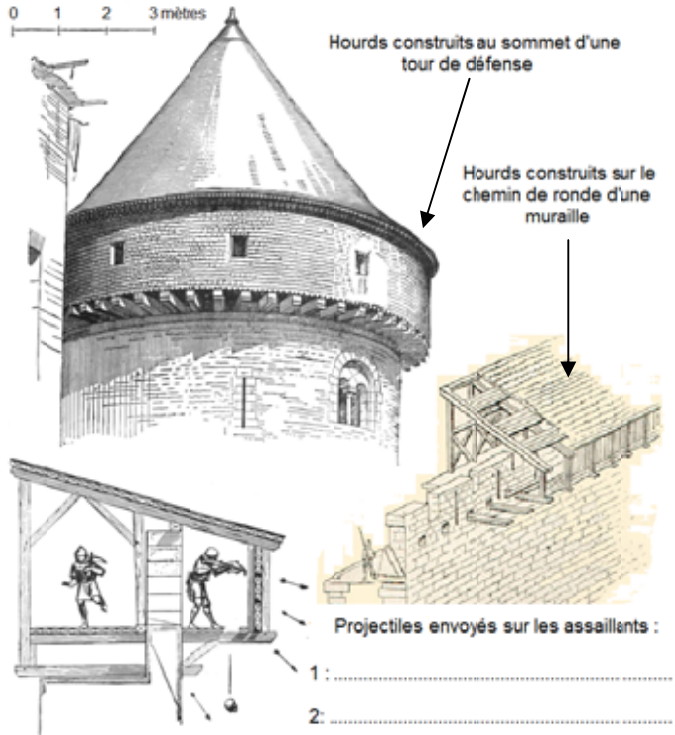
Celui du XI^{ème} siècle :

Celui du XIII^{ème} siècle :

Enfin, placez celui de Coudray sur le plan (0,5 points) :

L'un des deux avait besoin de 4 hommes pour être manœuvré, l'autre seulement de deux. Lequel des deux types était le plus facile à utiliser ? Pourquoi ? (1 point) :

Une fois franchie la 1^{ère} porte, on accédait à la **barbacane** : *fortification en demi-cercle, en avant de la muraille* (à placer sur le plan : **0,5 points**). En face, certaines tours du château comportent des défenses spéciales à leurs sommets : **les hourds** :



A l'aide des dessins et de la reconstitution en 3D, définissez ce que sont les hourds (lieu de construction, matériaux de construction, rôle militaire) (**1 point**) :

Dans les dessins à gauche, indiquez le nom des deux types de projectiles jetés sur les assillants (**1 point**).

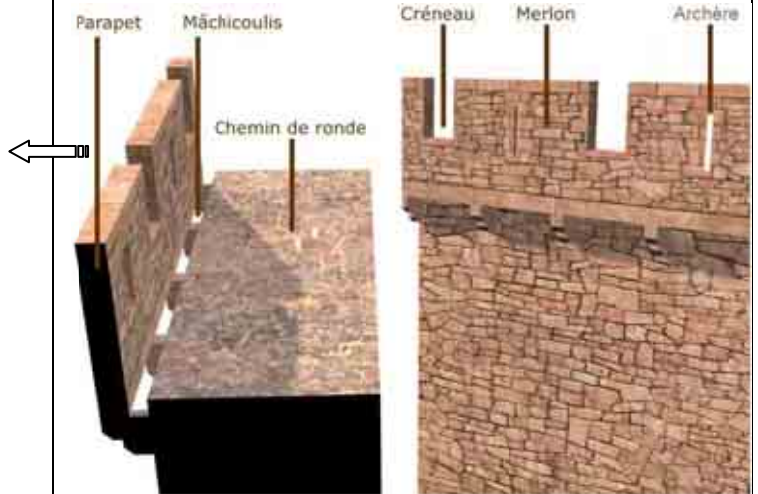
Les hourds furent les 1^{ères} constructions sur les remparts. Mais au XIII^{ème} siècle, ils furent remplacés par les **mâchicoulis** (*voir dessin plus bas*), qui avaient exactement le même rôle que les hourds. A votre avis, pourquoi les hourds étaient-ils plus fragiles que les mâchicoulis ? (**0,5 points**)

Archères (**1 point**) :

Créneaux du parapet (**1 point**) :

Chaque muraille et tour du château possède des **archères** (= meurtrières), des **créneaux**. A l'aide des dessins ci-dessous, essayez de définir ce que c'était et quels étaient leurs rôles.

Les différents éléments d'une muraille de château :



Une des tours du château est plus massive, plus haute que les autres : comment se nommait-elle ? A quoi servait-elle ? (**1 point**)

Mettez le nom de cette tour au bon endroit sur le plan du château page précédente (**1 point**)

Mais le château fort n'était pas qu'un lieu de défense, c'était aussi un lieu de vie (**1 point par construction et rôle**) :

La basse cour : placez-la sur le plan (**0,5 points**) :

La haute cour : placez-la sur le plan (**0,5 points**) :

La basse cour		La haute cour	
Noms des constructions	Rôle des constructions :	Noms des constructions :	Rôle des constructions :
	→		→
	→		→
	→		→

Quels éléments prouvent que le confort était très rudimentaire ? (**1 point**)

Placez deux de ces constructions sur le plan page précédente (**1 point**)