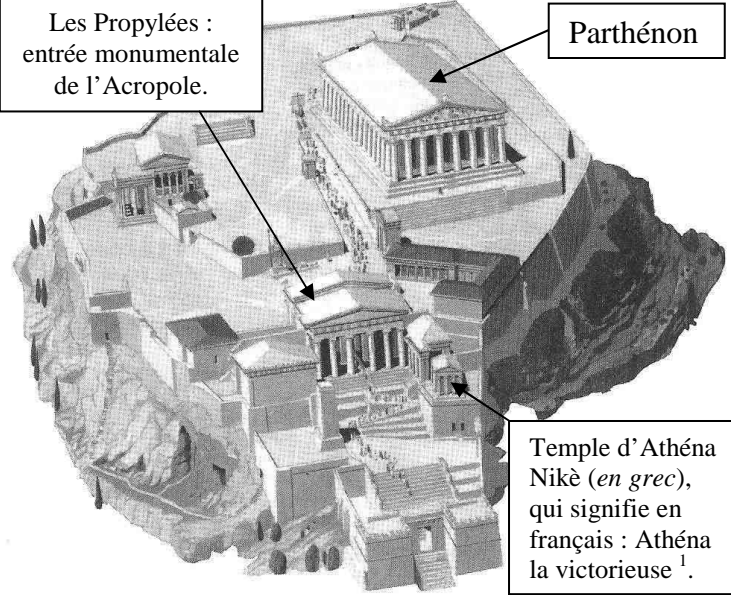


Le culte civique des Athéniens au Parthénon :

Source : <http://www.histoire-geo.org>

Introduction : Tous les ans, fin juillet, un défilé était organisé (D'Eleusis, sur la côte à l'ouest d'Athènes, jusqu'à l'Acropole) en l'honneur d'Athéna et de la démocratie : ce furent les Panathénées. Ce défilé était suivi de jeux et de fêtes durant plusieurs jours. Les Grandes Panathénées, elles, se déroulaient tous les quatre ans. Le point d'orgue de ce défilé était l'arrivée au Parthénon, sur l'Acropole. **En quoi les Panathénées reflétaient-elles une conception de la démocratie intimement liée à la religion ?**

I : Le Parthénon : symbole de la gloire d'Athènes :

<i>Visionnage du documentaire d'Arte : Les secrets du Parthénon, de la 2^{ème} minute et 8^{ème} seconde jusqu'à la 16^{ème} minute et 53^{ème} seconde.</i>	
Que représente le temple du Parthénon pour la culture occidentale ? (1 point)	<p style="text-align: center;">La colline de l'Acropole, à Athènes au V^{ème} siècle av. J.C :</p> <div style="display: flex; justify-content: space-around; align-items: center;"> <div style="border: 1px solid black; padding: 5px; width: 30%;"> Les Propylées : entrée monumentale de l'Acropole. </div> <div style="text-align: center;">  </div> <div style="border: 1px solid black; padding: 5px; width: 30%;"> Parthénon </div> </div> <div style="border: 1px solid black; padding: 5px; width: 30%; margin-top: 10px;"> Temple d'Athéna Nikè (<i>en grec</i>), qui signifie en français : Athéna la victorieuse¹. </div>
Pourquoi le temple du Parthénon fut-il bâti ? (3 points).	3 :
1 :	2 :
<p style="text-align: center;">Indication : la construction de ce temple, de -447 à -432, a nécessité 100 000 tonnes de marbre, coûtant environ 400 talents d'argent (1 talent = 26kg). Au cours actuel, 1 kilo d'argent vaut environ 450 euros...</p>	
D'où venait l'argent qui a servi à payer la construction du Parthénon ? Etait-ce juste ? Pourquoi ? (1,5 points)	(Empty space for answer)
Comment Athènes s'épanouit-elle culturellement ? (1 point)	(Empty space for answer)
Quel rôle démocratique jouent les tragédies théâtrales ? (1 point)	(Empty space for answer)
Pourquoi la déesse Athéna était-elle honorée sur l'Acropole ? (0,5 points)	(Empty space for answer)
Quels étaient les rôles du Parthénon ? (1 point)	1 : 2 :

En quoi la fabrication de la statue d'Athéna Parthénos (qui a coûté 200 talents d'argent) reflétait-elle le débat démocratique permanent à Athènes ?
(1 point)

¹ Maintenant, vous pouvez comprendre ce que signifie le nom d'une célèbre marque américaine de vêtements de sport ...

II : Les Panathénées : une procession pour glorifier la démocratie athénienne :

Prenez votre manuel (**Magnard**) aux pages 48-49 et répondez aux questions ci-dessous à l'aide de TOUS les documents :

Inscrivez dans les 3 colonnes ci-dessous les noms des catégories des gens qui participent aux Panathénées : (1,5 points) :

<i>Personnages religieux :</i>	<i>Dirigeants d'Athènes :</i>	<i>Citoyens ordinaires + armée :</i>

Pour tous les gens ci-dessus, la participation aux Panathénées était-elle volontaire ? Relevez une phrase du Doc. 2 qui le prouve :
(1 point)

Parmi les non citoyens, qui a le droit de participer à la procession ? (1 point)	1 :	2 :
---	------------	------------

A quelle condition pouvaient-ils participer ? (0,5 points)	
---	--

Visionnage du documentaire d'Arte : Les secrets du Parthénon, de la 1 heure, 4 minute et 14 seconde jusqu'à la fin.

L'ordre dorique :

« Les Grecs prirent comme diamètre pour la colonne la mesure du pied d'un homme, qui est égale à un sixième partie de sa hauteur.

Ils se réglèrent sur cette proportion, de sorte qu'en donnant une certaine grosseur à la tige de leurs colonnes, ils la firent six fois plus haute en comprenant le chapiteau.

C'est ainsi que la colonne dorique fut d'abord employée dans les édifices, avec la proportion, la force et la beauté du corps de l'homme. »

Vitruve (écrivain romain), *Les dix livres d'architecture*, livre IV, chapitre 1, 14 av. J-C.

La colonne dorique repose : (cochez la bonne réponse...) :

Sur une base ? ou directement sur le sol ?
(0,5 points)

Triglyphe
La partie sculptée entre chaque triglyphe se nomme une **métope**

Architrave

Tympan: partie triangulaire sculptée, au dessus des colonnes.

Partie située au dessus de la colonne et nommé le **chapiteau**
(Les chapiteaux doriques ne sont jamais sculptés)

Fût (= tube) de la colonne.

Diamètre :

(1 point)

Son diamètre et sa hauteur font ressembler la colonne au

(0,5 points)

Pourquoi peut-on affirmer que le Parthénon, les statues et la frise des Panathénées étaient polychromes ?
(0,5 points)

Où sont représentés les dieux sur le Parthénon ?
(0,5 points)

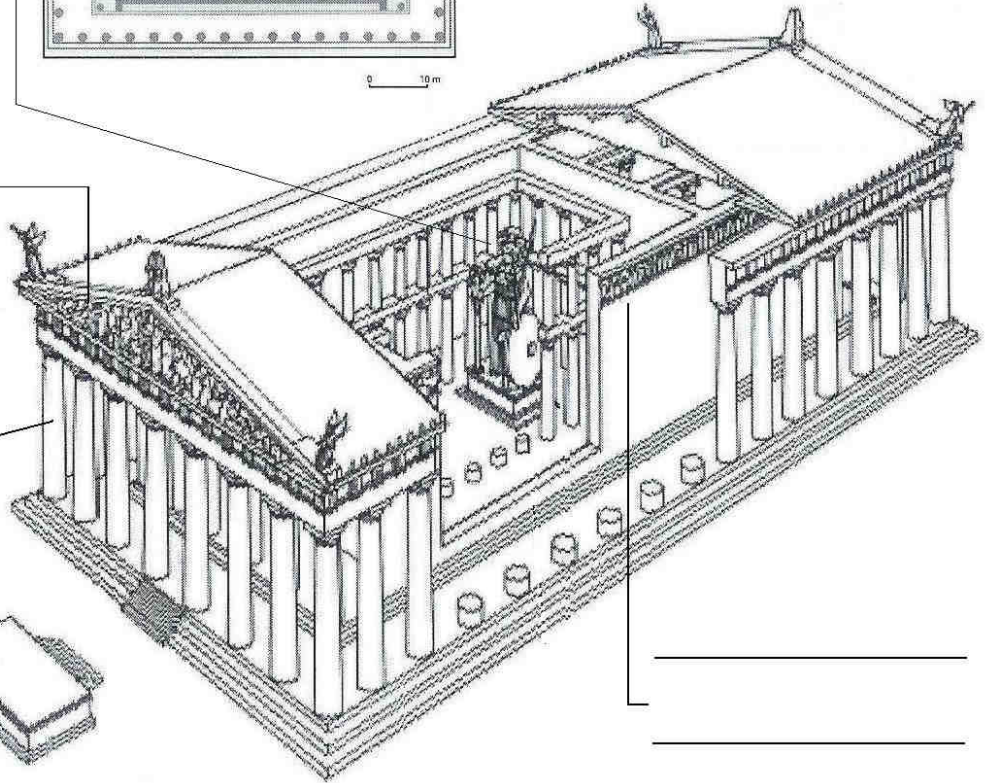
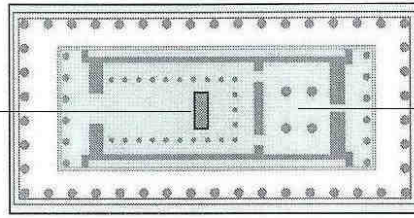
En quoi la frise des Panathénées montre-t-elle une évolution majeure de la culture athénienne ? (2 points)	1 :	2 :
---	------------	------------

Quel est le thème de la frise des Panathénées ? (0,5 points)	
---	--

Quel devait être le rôle du Parthénon selon l'historien grec Thucydide, ami de Périclès ? (0,5 points)	
---	--

Conclusion : complétez le plan en écorché du Parthénon ci-dessous : (3 points de bonus) :

Le Parthénon



Colonnes de style :

Le documentaire d'Arte (les secrets du Parthénon) est disponible en téléchargement sur le site : www.Arte.vod.com.