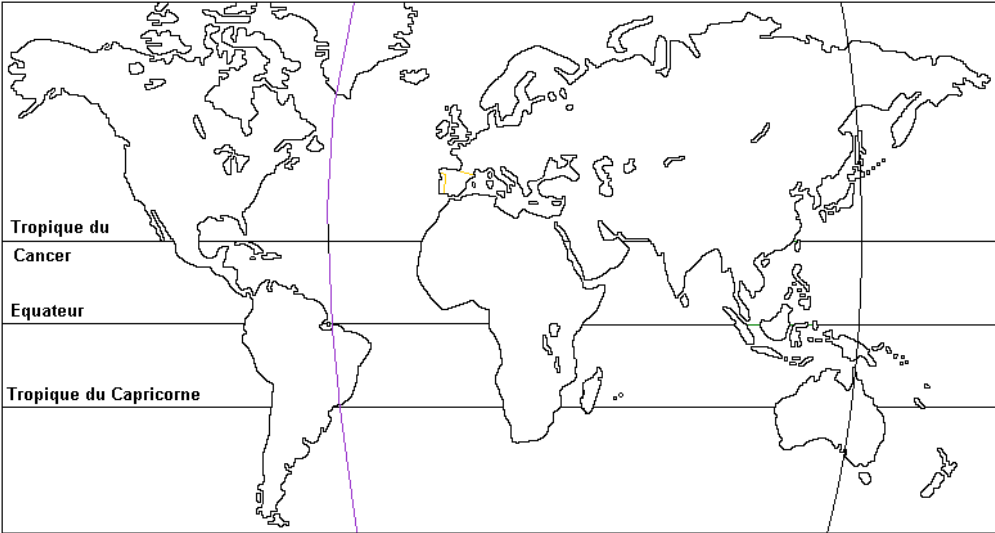
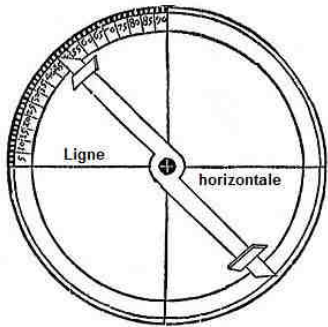


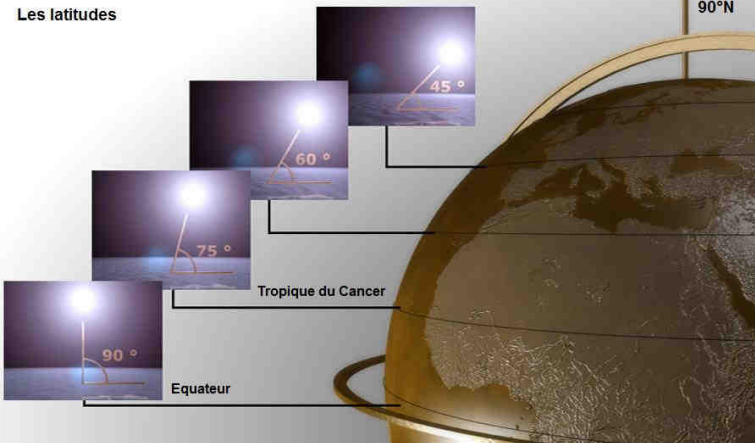
La « circumnavigatio » de Magellan : un objectif purement géographique ?

Source : <http://www.histoire-geo.org/>

Introduction : Fernand de Magellan (1480-1522) fut un navigateur portugais resté célèbre pour avoir projeté et conduit le premier tour du monde maritime, même s'il n'en vit pas le terme. A une époque où l'Eglise catholique imposait encore par la terreur de l'Inquisition sa vision d'une Terre plate, son postulat géographique a de quoi surprendre ; car vouloir réaliser un tour du monde supposait de ne pas croire aux dogmes des pères de l'Eglise, et d'avoir la volonté et les moyens de le prouver. Toutefois, ce tour du monde n'eut pas pour motivation que des intérêts philanthropiques. **En quoi la « circumnavigatio » de Magellan révèle-t-elle l'antagonisme des intérêts européens dans la découverte du monde ?**

I : Des précurseurs assoiffés de richesses : Visionnage de la préparation du voyage de Magellan (du début à la 3^{ème} minute).

<p>Quel explorateur du Moyen-âge (en 1295) a fait miroiter aux Européens la source de fabuleuses richesses ? Où ? (1,5 points)</p>			
<p>Comment le Portugal comptait-il accéder à ces richesses en évitant les intermédiaires arabes, ottomans et italiens aux commissions exorbitantes ? (1 point)</p>			
<p>Quels explorateurs découvrirent le continent américain ? A partir de quelle année ? (1,5 points)</p>	Année :	1 :	2 :
<p>En 1494, le Pape Alexandre VI ratifie le traité de Tordesillas entre l'Espagne et le Portugal sur le partage du monde. Hachurez en orange les terres réservées à l'Espagne (0,5 points) et en jaune celles réservées au Portugal (0,5 points) (à l'exclusion de l'Europe et du monde islamique). Les autres puissances européennes (France, Angleterre, Pays-Bas), exclues du partage, sont scandalisées.</p>			
		<p>Quel est l'enjeu économique du tour du monde de Magellan ? (1 point)</p>	
<p>Comment compte-t-il mener à bien son Tour du monde ? (0,5 points)</p>			
<p>Comment Magellan, le Portugais, convainc-t-il le roi d'Espagne de financer son expédition ? (1 point)</p>			
<p><i>Visionnage de l'extrait du documentaire sur les latitudes (DVD Le temps des grands voiliers, Editions des Riches Heures) :</i></p>			
	<p>A gauche se trouve un schéma simplifié d'un astrolabe : invention chinoise permettant de mesurer les latitudes. Avec le schéma page suivante, expliquez comment un navigateur pouvait savoir s'il se trouvait sur le tropique du cancer et quelle est la latitude de celui-ci ? (2,5 points)</p>		

<p>Comment nomme-t-on la position 90° Nord ? (0,5 points)</p>	<p>Les latitudes</p> 
<p>Quelle est donc la latitude de l'équateur en degré ? (0,5 points)</p>	
<p>II : Une expédition dangereuse : Visionnage du voyage de Magellan (de la 3^{ème} minute jusqu'à la fin).</p>	

Pourquoi les tensions entre Magellan et son équipage augmentent-elles au fur et à mesure du début du voyage ? (1,5 points)

1 :	2 :	3 :
-----	-----	-----

<p>Comment Magellan résout-il le problème ? (0,5 points)</p>	
--	--

<p>Où et comment Magellan trouve-t-il le passage vers le nouvel océan ? Comment le nomme-t-il ? (2 points)</p>	
--	--

<p>Dans quel archipel meurt Magellan ?</p>	
--	--

<p>L'expédition de Magellan a-t-elle été rentabilisée pour le roi d'Espagne ? Pourquoi ? (1 point)</p>	
--	--

<p>Dans quelle zone d'influence sont positionnées les Moluques ? A quels pays actuels cette région correspond-t-elle ? (1 point)</p>	
--	--

	<p>Complétez la carte ci-contre à gauche en indiquant le trajet suivi par la flotte de Magellan (1 point) et en indiquant aux bons endroits les noms des lieux qu'il a découverts (au nombre de 4) (2 points).</p>
---	--